

بسمه تعالی

مروری بر آموخته‌های ریاضی

پیش دبستانی و دبستان غیردولتی ریحانه

مدت زمان: ۴۵ دقیقه

تاریخ: ۱۴۰۰/۱۰/۱۱

کلاس: دوم

نام و نام خانوادگی: .....

۱ الگوهای زیر را ادامه دهید.

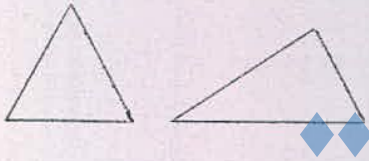
۴ - ۸ - ۱۲ - ..... - ..... - .....

۱ - ۲ - ۴ - ۷ - ..... - ..... - .....

۲۴۵ - ۲۴۶ - ۲۴۷ - ..... - ..... - ..... - .....

۲ یک عدد دو رقمی بنویسید که رقم یکان آن ۵ و رقم دهگان آن ۴ تا بیشتر از رقم یکان باشد.

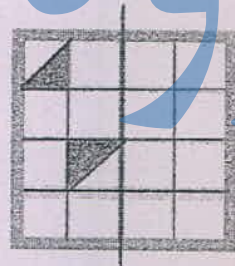

۳ دو شکل زیر چه تفاوت و شباهت‌هایی با هم دارند؟



شباهت: .....

تفاوت: .....

۴ قسمت‌های دیگر هر شکل را با توجه به خط‌های تقارن کامل کنید.



۵ جمع و تفریق زیر را با رسم شکل و فرایندی حل کنید.

$$\begin{array}{r} ۲۹ \\ + ۱۴ \\ \hline \end{array}$$

+


$$\begin{array}{r} ۴۳ \\ - ۲۷ \\ \hline \end{array}$$

-

۶ همه‌ی عددهای دورقمی را بنویسید که رقم یکان آن‌ها ۰ یا ۵ و رقم دهگان آن‌ها ۷ یا ۶ باشد.

۷ تکالیف ریاضی و علوم مهدیه ۵۵ دقیقه طول کشید. اگر تکالیف علوم او ۲۹ دقیقه زمان برده باشد، مهدیه در چند دقیقه تکالیف ریاضی نوشته است؟

۸ عددی را که هر شکل نشان می دهد در جدول قرار دهید و با رقم و باحروف بنویسید.



یکان	دهگان	صدگان



یکان	دهگان	صدگان

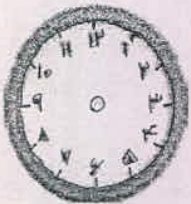
۹ یک سکه ۱۰ ریالی برابر است با ..... سکه ۱ ریالی.

۱۰ زمانی را که ساعت نشان می دهد بنویسید.

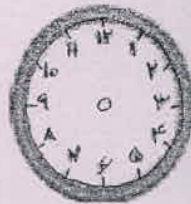


..... : .....  
ساعت ..... و ..... است.

۱۱ زمان های زیر را روی هر ساعت نشان دهید.



نیم ساعت بعد از ۲



یک ربع مانده به ۷

۱۲ ساعت ۲ است. یک ساعت و ربع بعد ساعت چند است؟ .....

غنچه های ریحانه، سربلند و پیروز باشید.



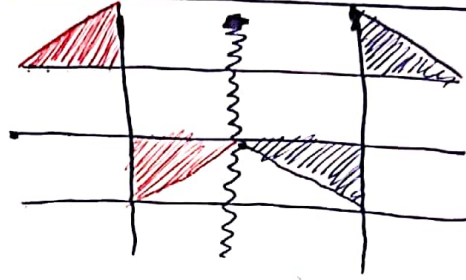
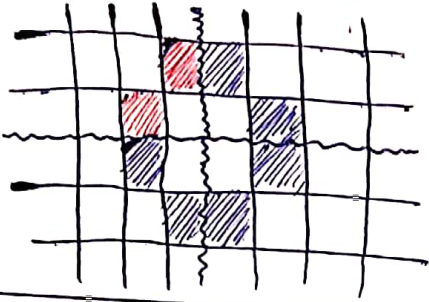
۴ - ۸ - ۱۲ - ۱۶ - ۲۰ - ۲۴  
 ۱ - ۲ - ۴ - ۷ - ۱۱ - ۱۶ - ۲۲  
 ۲۴۵ - ۲۴۶ - ۲۴۷ - ۲۴۸ - ۲۴۹ - ۲۵۰ - ۲۵۱ - ۲۵۲

۱  
۱

۹۵

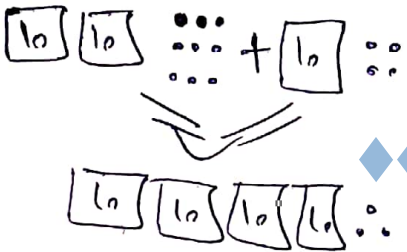
۲  
۳

تشابهت: هر دو مثلث هستند و سه ضلع و سه گوشه دارند.  
 تفاوت: مثلث چپ اضلاعش با هم برابرند و زاویه راست ندارد برعکس مثلث راست

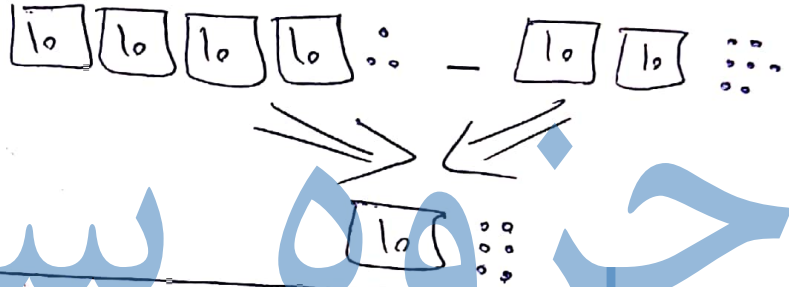


۴

$۲۰ + ۹ + ۱۰ + ۴ = ۴۳$



$۲۰ + ۳ - ۲۰ - ۷ = ۱۶$



۵

جواب سستی

۴ ۵ ۱۵  
 ۲ ۹  
 [۲۶]

۶  
 ۷۵ و ۷۰ و ۹۵ و ۹۰  
 ۲۶ دقیقه تلف ریاضی

۶  
۷

بیان / دهگان / صدگان  
 ۳ / ۵ / ۲  
 سیصد و پنجاه و دو

بیان / دهگان / صدگان  
 ۴ / ۳ / ۵  
 چهارصد و سی

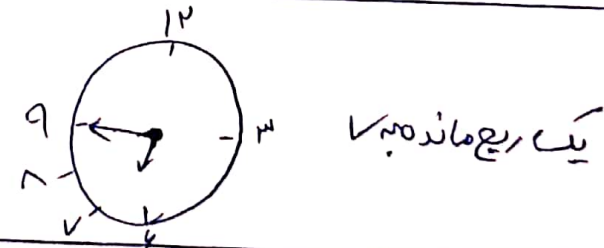
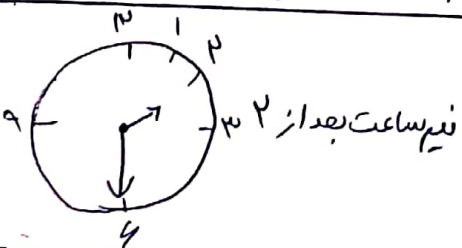
۴۳۰  
 چهارصد و سی

۸

۸ و ربع = هشت و پانزده دقیقه

ده | ۱۰ | ۱:۵

۹



۱۱

سستی

۱۲ ساعت ۱:۵ = سه و ربع

۱۲